

**Проверочная работа
по ФИЗИКЕ**

7 класс

Вариант 2

Инструкция по выполнению работы

На выполнение работы по физике даётся 45 минут. Работа содержит 11 заданий.

Ответом на каждое из заданий 1, 3-6, 8, 9 является число или несколько чисел. В заданиях 2 и 7 нужно написать текстовый ответ. В заданиях 10 и 11 нужно написать решения задач полностью. В случае записи неверного ответа зачеркните его и запишите рядом новый.

При выполнении работы можно пользоваться непрограммируемым калькулятором.

При необходимости можно пользоваться черновиком. Записи в черновике проверяться и оцениваться не будут.

Советуем выполнять задания в том порядке, в котором они даны. Для экономии времени пропускайте задание, которое не удаётся выполнить сразу, и переходите к следующему. Постарайтесь выполнить как можно больше заданий.

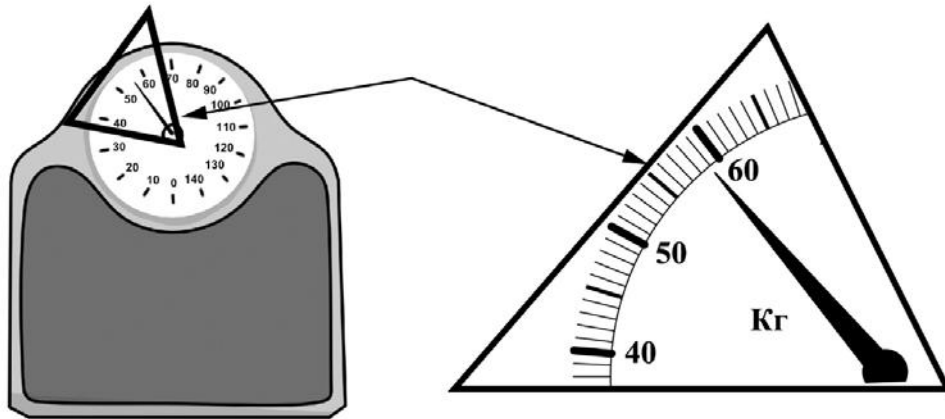
Желаем успеха!

Таблица для внесения баллов участника

Номер задания	1	2	3	4	5	6	7	8	9	10	11	Сумма баллов	Отметка за работу
Баллы													

1

Женя готовится к соревнованиям. Максимально допустимая масса спортсмена, выступающего в его весовой категории, составляет 50 кг. Определите минимальное количество килограммов, которое нужно сбросить Жене для того, чтобы его допустили до соревнований.



Ответ: _____ кг.

2

Спортсмены на соревнованиях по тяжёлой атлетике поднимают штангу. Сделать это могут только хорошо тренированные люди. Действие какой силы преодолевают спортсмены, поднимая тяжести? Со стороны какого тела действует эта сила, на что она действует и куда она направлена?

Ответ: _____

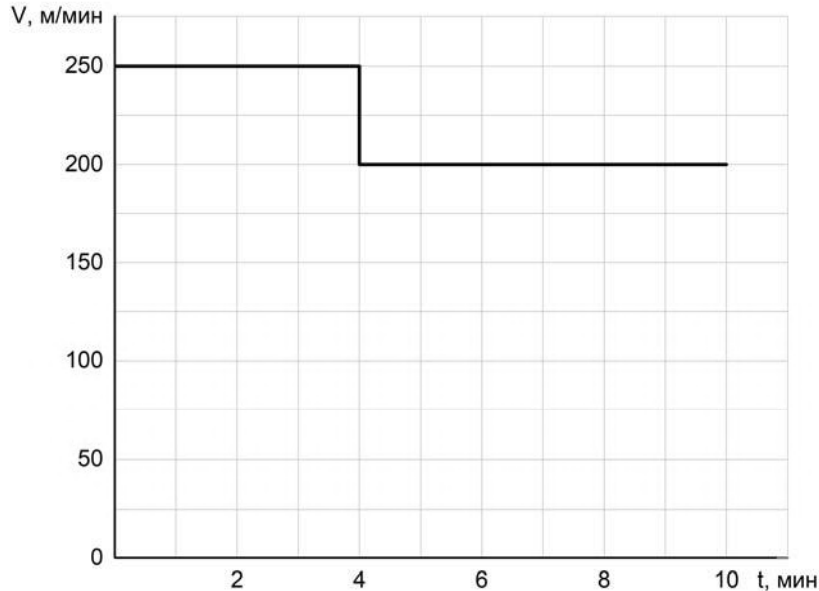
3

Средняя сила удара молотка по гвоздю составляет 15 Н. Какое давление оказывает забиваемый гвоздь на доску в процессе удара, если площадь поперечного сечения его острия $0,0000002 \text{ м}^2$?

Ответ: _____ Па.

4

Мама позвонила Алёше, который гулял с друзьями, и сказала, что ему нужно срочно бежать домой, так как родителям требуется его помощь. Алёша бросил все дела и сразу же побежал домой, но через некоторое время устал и стал бежать медленнее. По графику зависимости скорости Алёши от времени определите, на сколько уменьшилась скорость бега мальчика после того, как он устал.



Ответ: _____ м/мин.

5

Илья налил в стакан доверху воды. Затем в этот стакан он опустил подвешенный на нитке кусочек мела, полностью погрузив его в воду (мел не касался дна и стенок стакана). При этом из стакана вылилось 10 г воды. Определите объём кусочка мела, если плотность воды равна 1 г/см^3 .

Ответ: _____ см^3 .

6

Нина и Ваня плыли по реке на байдарке. Когда они гребли, то проходили за полчаса вниз по течению 6 км, а когда уставали и не гребли – то течение сносило их за то же время на 3 км. С какой скоростью плыла бы байдарка, если бы ребята гребли, путешествуя по озеру?

Ответ: _____ км/ч.

7

Настя решила проверить – справедлив ли закон Гука для резинки для волос. В кабинете физики она взяла набор одинаковых грузиков массой по 50 г каждый и стала подвешивать их к резинке. Определите, выполняется ли закон Гука для изучаемой резинки? Ответ кратко поясните.

Количество подвешенных грузиков	Длина резинки, см
1	12
2	14
3	17
4	21
5	25

□ Ответ: _____

8

Антон решил попробовать определить внутренний объём надутого воздушного шарика – наполнить его водой и измерить объём этой воды. Выяснилось, что надуть шарик водой не так-то просто, поскольку он не растягивается под её весом. Поэтому Антон начал заливать в шарик воду через вертикальную трубку, как показано на рисунке. Известно, что минимальное дополнительное давление, которое нужно создать для надувания шарика, составляет 12 кПа. Какой минимальной длины трубку надо взять Антону для того, чтобы исполнить свой план? Плотность воды 1000 кг/м^3 .



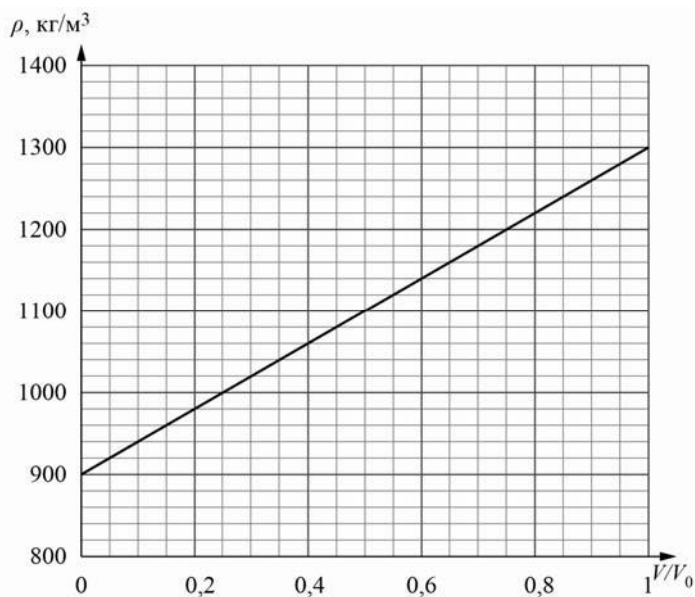
□ Ответ: _____ м.

9

Строители в Заполярье иногда используют в качестве строительного материала ледобетон. Так называют лёд с вмороженной в него галькой. Ледобетон настолько прочен, что при работе с ним нередко ломаются даже стальные зубья экскаваторов. На рисунке изображён график зависимости средней плотности ρ блока ледобетона от соотношения V/V_0 (здесь V – объём гальки в блоке, V_0 – общий объём блока).

1) Пользуясь графиком, определите среднюю плотность блока ледобетона в том случае, когда объёмы входящих в него гальки и льда относятся как 3/5.

2) На сколько средняя плотность гальки, входящей в состав ледобетона, отличается от плотности льда?



Ответ: 1) _____ кг/м³;

2) _____ кг/м³.

10

Очень сложно путешествовать по тайге в зимнюю пору, когда выпало много снега. Охотник сначала половину пути прошёл за $1/2$ всего времени движения, далее одну восьмую часть пути он преодолел за $1/4$ всего времени. Последний участок пути был пройден охотником со средней скоростью $1,2$ м/с.

- 1) Какую часть всего пути охотник шёл со скоростью $1,2$ м/с? Ответ дайте в виде несократимой дроби.
- 2) Какую часть всего времени охотник шёл со скоростью $1,2$ м/с? Ответ дайте в виде несократимой дроби.
- 3) Найдите среднюю скорость охотника на всём пути.

Ответы на вопросы обоснуйте соответствующими рассуждениями или решением задачи.

Решение:	
<div style="border: 1px solid black; width: 20px; height: 20px; display: inline-block; margin-right: 5px;"></div> Ответ:	

